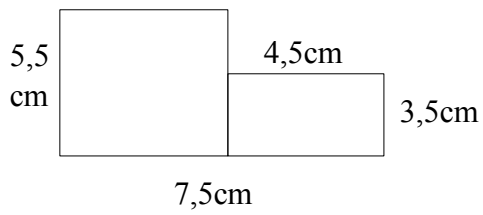


Übungen zur Geometrie (2)

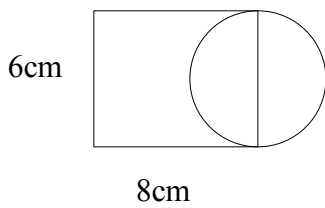
Beachte: Alle Zeichnungen sind Skizzen!

Du musst bei einigen Figuren Zeichnungen anfertigen, um Maße für die Berechnungen zu finden!

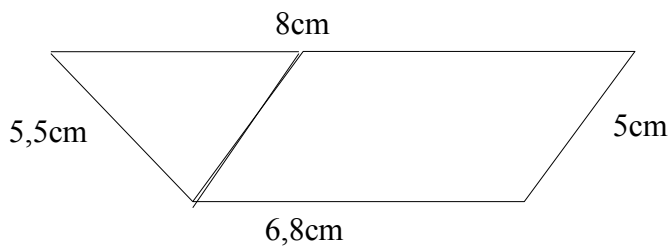
1. Berechne Umfang und Fläche!



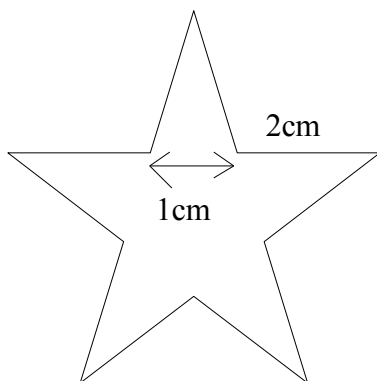
2. Berechne Umfang und Fläche!



3. Berechne Umfang und Fläche!



4. Berechne Umfang und Fläche!



5. Berechne Umfang und Fläche!

